


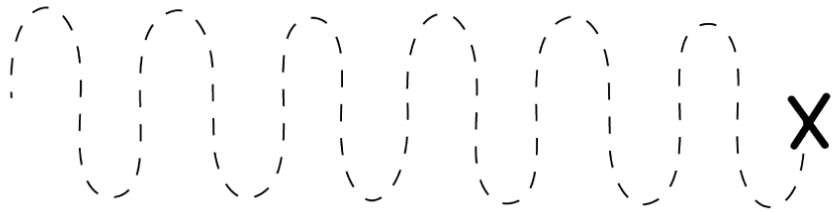
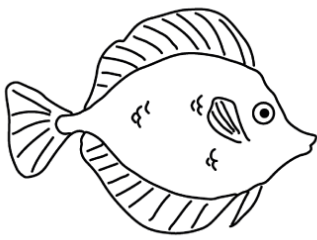
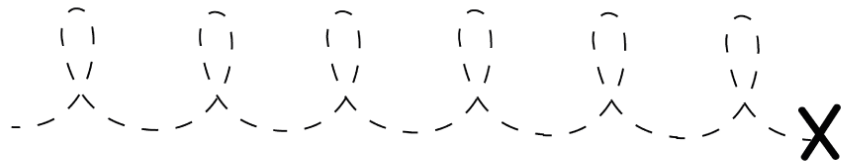
ESCOLA:

NOME:

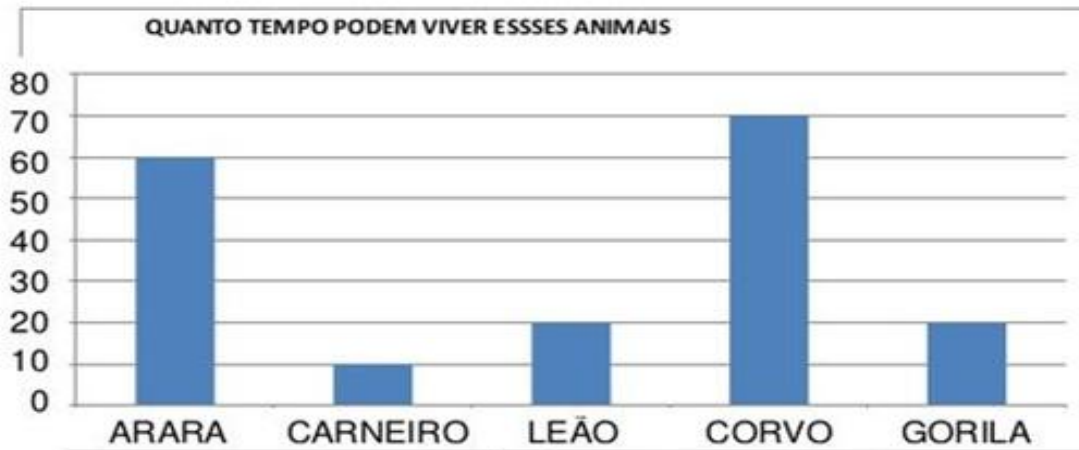
DATA: __/__/__



Ligue os pontos para ajudar os animais a chegarem no "X".



34) VEJA O GRÁFICO QUE A PROFESSORA DE MARIANI APRESENTOU A TURMA:



AGORA, RESPONDA:

a) QUAL ANIMAL VIVE MAIS TEMPO? _____

b) QUAL O ANIMAL QUE VIVE MENOS TEMPO?

c) O GORILA VIVE QUANTOS ANOS? _____

d) QUANTOS ANOS O CORVO VIVE MAIS QUE O LEÃO? _____

LEIA AS PALAVRAS DO QUADRO ABAIXO E ESCREVA O NOME DAS FIGURAS.

CASA



COELHO

CAMISA

CAFETEIRA

CARAMUJO

COROA

CAMELO


CAMARÃO

CAMA

COBRA

CAIXA

CORAÇÃO



PINTE O NOME DO NÚMERO EM DESTAQUE:

7

5

3

9

8

2

4

UM	DOIS	CINCO	SETE
QUATRO	CINCO	TRÊS	OITO
NOVE	UM	TRÊS	DEZ
DOIS	NOVE	SETE	QUATRO
OITO	ZERO	DOIS	CINCO
SETE	SEIS	NOVE	DOIS
DEZ	QUATRO	OITO	NOVE

LIGUE A FIGURA À SUA LETRA INICIAL:

B



D

M



A

V



F

P



O

U



R

C



T

E



L

COMPLETE



$6 + 2 = \square$

$3 + 2 = \square$

$4 + 3 = \square$

$8 + 1 = \square$

$5 + 2 = \square$

$6 + 3 = \square$

$7 + 2 = \square$

$2 + 2 = \square$

$4 + 4 = \square$

$4 + 6 = \square$

 $3 + \square = 4$

$\square + 6 = 9$

$\square + 4 = 6$

$5 + \square = 14$

$5 + \square = 8$

$\square + 4 = 10$

$\square + 3 = 7$

$2 + \square = 7$

$2 + \square = 5$

$\square + 5 = 12$





O alfabeto segue uma certa ordem.
É a **ordem alfabética**. Coloque os nomes dos
animais abaixo em ordem alfabética.

formiga	hipopótamo	macaco	onça
zebra	paca	gambá	novilho
cavalo	tatu	dragão	quati
javali	sapo	arara	urubu
borboleta	rato	içá	vaca
leão	ema	yorkshire	koala
wombat	xexéu		

a		n	
b		o	
c		p	
d		q	
e		r	
f		s	
g		t	
h		u	
i		v	
j		w	
k		x	
l		y	
m		z	

X2
2X0=
2X1=
2X2=
2X3=
2X4=
2X5=
2X6=
2X7=
2X8=
2X9=
2X10=

22
X2

12
X2

34
X2

13
X2

14
X2

31
X2

51
X2

42
X2

50
X2

46
X2

63
X2

49
X2