

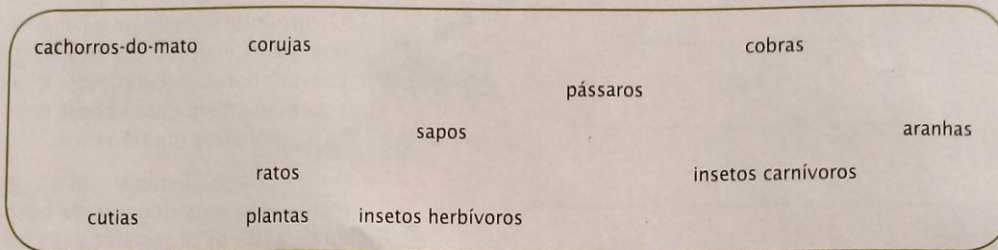


Atividade

1. Monte uma cadeia alimentar completando os quadros:

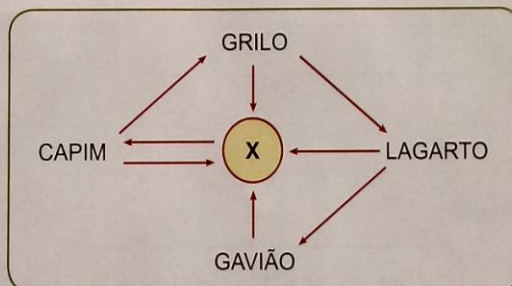
Produtor	Consumidor primário	Consumidor secundário	Consumidor terciário	Consumidor quaternário

2. Por meio de setas monte as relações alimentares (as setas partem do alimento para aquele que come).



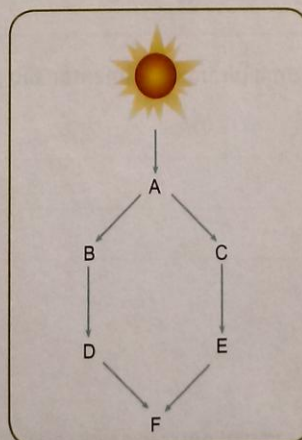
Destaque duas cadeias alimentares com quatro consumidores.

3. Na cadeia alimentar abaixo, qual o papel do organismo X?



© Chico Silveira

4. No esquema abaixo, qual o nível alimentar dos organismos A, B, C, D, E e F?



© Chico Silveira